



# HiFi-Leistungsverstärker

Skriptum zum  
**mechatronischen Praktikum**

Sommersemester 2016

---

# Inhaltsverzeichnis

<b>1</b>	<b>Einleitung</b>	<b>1</b>
<b>2</b>	<b>Eigenschaften des Verstärkers</b>	<b>1</b>
<b>3</b>	<b>Komponenten des Verstärkers</b>	<b>1</b>
3.1	Stromspiegel . . . . .	1
3.2	Differenzverstärker . . . . .	4
3.3	Treiberstufe . . . . .	6
3.4	Gesamtschaltung . . . . .	10
<b>4</b>	<b>Schaltplan, Layout</b>	<b>10</b>
<b>5</b>	<b>Aufgaben</b>	<b>12</b>

## 1 Einleitung

In diesem Versuch wird ein Audio-Leistungsverstärker aufgebaut zum Verstärken des Signals eines MP3-Players, Handys, etc. für einen Lautsprecher.

## 2 Eigenschaften des Verstärkers

Das menschliche Ohr ist in der Lage, Frequenzen zwischen ca. 20 Hz und 20 kHz wahrzunehmen. Im Audiobetrieb ist es daher notwendig, in diesem Frequenzbereich eine lineare Verstärkung zu realisieren. Lineare Verstärkung meint hier, dass die Signalform des Eingangssignals nicht verändert, sondern das Signal nur in seiner Amplitude verstärkt wird. Gleichzeitig muss sichergestellt werden, dass der Verstärker die nötige Leistung bzw. den Strom, welcher aufgrund des Signals durch die Last (Lautsprecher) fließt, bereitstellen kann. Hierfür sind Stufen mit verschiedenen Funktionen notwendig, welche im Folgenden kurz erläutert werden. Auf die genauen Grundlagen zu den Stufen wird nicht eingegangen. Interessierte Teilnehmer/innen können in den Vorlesungen „Physikalische Grundlagen der Elektronik“ und „Schaltungstechnik“ das notwendige Wissen erlangen. Des Weiteren wird eine sehr ähnliche Schaltung auch in dem „Praktikum Schaltungstechnik“ aufgebaut und analysiert.

## 3 Komponenten des Verstärkers

Der Verstärker besteht aus verschiedenen Komponenten, welche im Zusammenspiel die Funktionalität sicherstellen. Diese Komponenten werden im Folgenden kurz vorgestellt. Eine Übersicht findet sich in Abb. 3.1.

### 3.1 Stromspiegel

Um die Funktionsweise schaltungstechnischer Komponenten sicherzustellen, ist es erforderlich, die Bauteile in bestimmten Bereichen zu betreiben. Beispielsweise hängen die Eigenschaften eines Transistors stark davon ab, in welchem Arbeitspunkt man ihn betreibt. Die Arbeitspunkte stellen Ruhelagen der Schaltung dar,

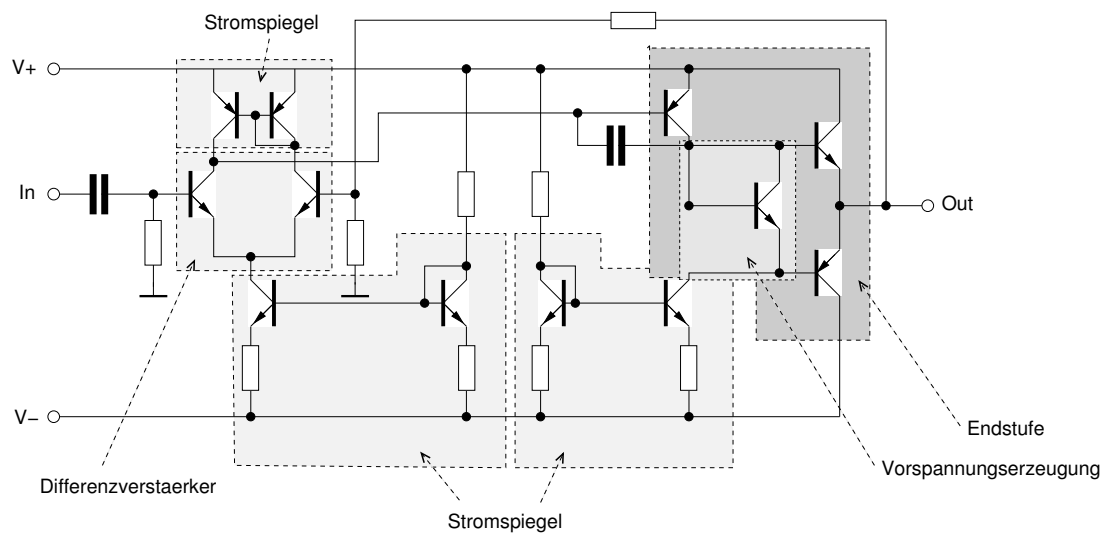


Abbildung 3.1: Die verschiedenen Komponenten des Audio-Leistungsverstärkers.

also stabile Punkte, um welche mit dem Signal ausgelenkt wird. Um den Arbeitspunkt, und damit die resultierenden Eigenschaften des Transistors, einzustellen, besteht eine Methode darin, den Transistor mit einem konstanten Strom zu speisen.

Um eine Stromquelle mit bekanntem, konstanten Strom zu erzeugen, kann ein sogenannter Stromspiegel verwendet werden. Der hier behandelte, einfache Stromspiegel (vgl. Abb. 3.2) besteht aus einem Widerstand  $R$  und zwei Transistoren (bipolar). Bei einem der beiden Transistoren schließt man die Basis und den Kollektor kurz, wodurch er sich wie eine Diode verhält (vgl. Abb. 3.3). Eine Diode kann vereinfacht als ein Bauelement betrachtet werden, welches nur in eine Richtung nach Überschreiten einer Schwellspannung Strom leitet. Sobald die Diode leitet, fällt über ihr die Spannung  $U_D$  ab, welche vom Strom durch die Diode abhängt.

Schaltet man einen Widerstand  $R$  in Reihe zu der Diode (vgl. Abb. 3.3) und legt eine Spannung  $U_0$  über Widerstand und Diode an, so stellt sich ein Strom  $I_0 = \frac{U_0 - U_D}{R}$  ein. Zur Berechnung des Stroms kann die Spannung  $U_D$  in guter Näherung als konstant angenommen werden. Der genaue Arbeitspunkt ergibt sich als Schnittpunkt aus den Kennlinien von Diode und Widerstand (vgl. Abb. 3.4).

Schaltet man einen zum ersten Transistor baugleichen Transistor so hinzu, dass die Basen miteinander verbunden sind, so stellt sich durch den zweiten Transistor

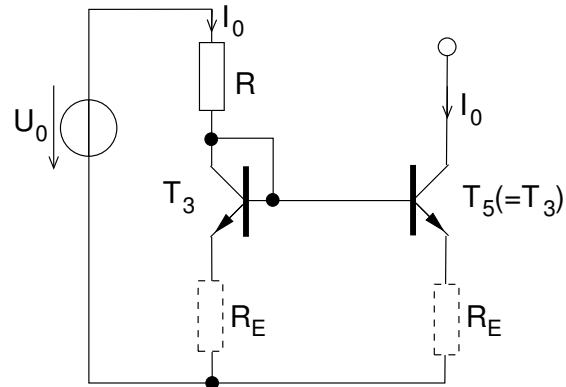


Abbildung 3.2: Der gesamte Stromspiegel mit Betriebsspannungsquelle  $U_0$ , optionalen Emitttergegenkopplungswiderständen  $R_E$ . Am Ausgang des Stromspiegels (Kollektor  $T_5$ ) fließt der gleiche Strom wie durch den Widerstand  $R$ .

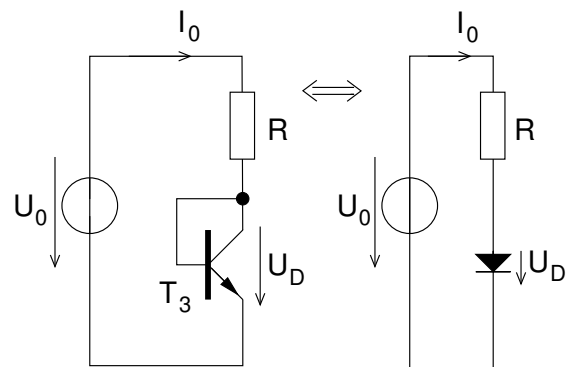


Abbildung 3.3: Als Diode verschalteter Transistor  $T_3$  aus Abb. 3.2 und äquivalente Darstellung.

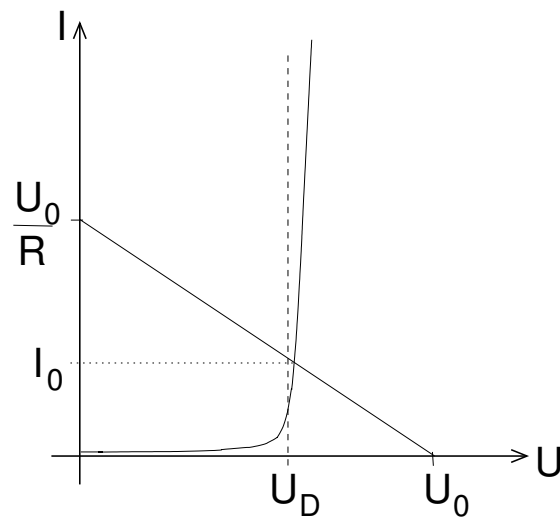


Abbildung 3.4: Kennlinien von Diode und Widerstand, der Schnittpunkt bestimmt den sich einstellenden Strom.

ein identischer Strom  $I_1 = I_0$  ein<sup>1</sup>. Auf genauere Betrachtung wird hier verzichtet, die Thematik wird in der Vorlesung „Schaltungstechnik“ ausführlich behandelt.

In der Verstärkerschaltung besitzen die Stromspiegel noch einen Widerstand an den Emitttern (vgl. Abb. 3.2), dieser wird zur Temperaturkompensation verwendet. Ohne diesen Widerstand würden sich die Transistoren aufheizen und unter bestimmten Betriebsbedingung selbst zerstören.

### 3.2 Differenzverstärker

Zur Verstärkung des Eingangssignals (in Abb. 3.1) dient ein Differenzverstärker. Dieser bildet bspw. die Grundlage von Operationsverstärkern, wie sie aus der Vorlesung „Elektrische Messtechnik“ bekannt sind.

In der Abb. 3.5 ist der prinzipielle Aufbau eines Differenzverstärkers aufgezeigt. Als Stromquelle kommt ein Stromspiegel zum Einsatz (vgl. Kap. 3.1). Aufgrund

<sup>1</sup>Für Experten: Die Modellierung des Transistorverhaltens erfolgt bspw. durch das Transferstrommodell. Der Kollektorstrom des Transistors ergibt sich näherungsweise aus der Gleichung

$$I_C = I_S \cdot e^{\frac{U_{BE}}{U_T}}.$$

$I_S$ : Sättigungsstrom,  $U_T$ : Temperaturspannung  $\frac{kT}{e} \approx 26$  mV. Da beide Transistoren  $T_3$ ,  $T_5$  die gleiche Basis-Emitter-Spannung besitzen, fließt auch in beiden ein identischer Strom.

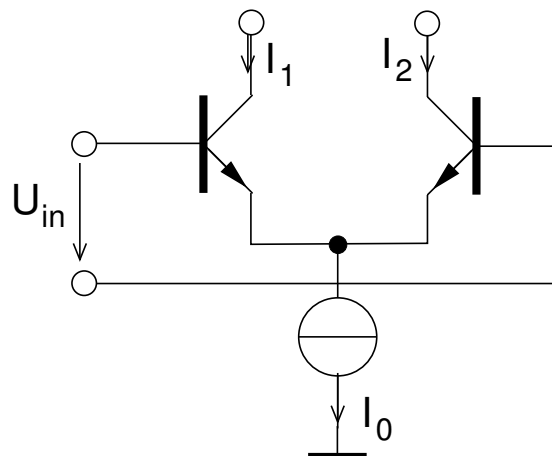


Abbildung 3.5: Aufbau eines Differenzverstärkers.

ihrer Funktionsweise stellen die Transistoren ohne Eingangssignal die Ströme in den Zweigen so ein, dass auf der linken und rechten Hälfte der gleiche Strom fließt (gleiche Transistoren im Differenzverstärker vorausgesetzt). Da die Ströme in die Basen der Transistoren gegenüber den Kollektorströmen vernachlässigbar sind, ist dieser Strom identisch dem halben Quellstrom  $I_0$ :

$$I_1 = I_2 = \frac{I_0}{2}.$$

Mit dem Eingangssignal ändern sich die Eigenschaften der Transistoren<sup>2</sup>, so dass in den Kollektorzweigen unterschiedliche Ströme  $I_1 \neq I_2$  fließen. Als Ausgangssignal des Verstärkers nutzt man diese Stromdifferenz.

Um aus der Stromdifferenz eine Spannungsdifferenz zu gewinnen, schaltet man identische Widerstände in die Zweige (vgl. Abb. 3.6). Die Differenzspannung  $U_{\text{out}}$  ist proportional zur Eingangsspannung  $U_{\text{in}}$  und dient als Ausgangssignal.

In unserer Schaltung wird jedoch nicht die Spannung, sondern der Differenzstrom als Ausgangssignal genutzt. Dazu muss die Differenz zwischen den Strömen  $I_1, I_2$  in einen Differenzstrom  $I_{\text{out}} = I_1 - I_2$  mit Hilfe einer sogenannten aktiven Last gewandelt werden.

<sup>2</sup>Für Experten: Durch die Eingangsspannung wird die Basis-Emitter-Spannung der Transistoren variiert. Hierdurch ändert sich der Strom durch die Transistoren.

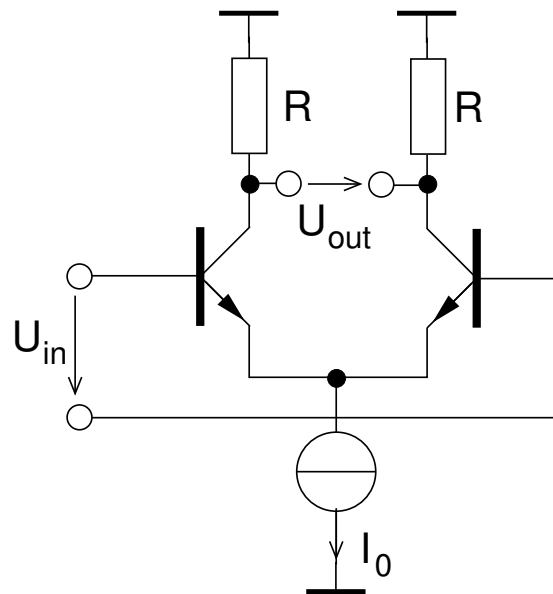


Abbildung 3.6: Differenzverstärker mit Widerständen am Ausgang um eine Ausgangsspannung zu erzeugen.

### Aktive Last

Die aktive Last arbeitet wie ein Stromspiegel. Wenn sich aufgrund einer Differenzspannung am Eingang der Strom zwischen den Zweigen um den Wert  $\Delta I$  um den Ruhewert  $\frac{I_0}{2}$  verschiebt, ändert sich der Ausgangsstrom um den doppelten Wert ( $2\Delta I$ ). Dies ergibt sich durch einfache Anwendung der Kirchhoffschen Knotenregel (Summe aller Ströme in einem Knoten) am Knoten  $N_1$  in Abb. 3.7.

### 3.3 Treiberstufe

Die gesamte Treiberstufe stellt einen sogenannten AB-Verstärker dar. Dieser besteht aus einer Vorspannungserzeugung und der eigentlichen Gegentaktendstufe. Der Ausgangsstrom der Differenzstufe wird mit Hilfe des PNP-Transistors  $T_9$  (vgl. Abb. 3.8) in ein Spannungssignal umgesetzt. Je nach Höhe des Eingangssignals  $I_{in}$  (=Ausgangsstrom  $I_{out}$  in Abb. 3.7) ändert sich der Ausgangsstrom von  $T_9$  und erzeugt in Verbindung mit dem konstanten Arbeitspunktstrom  $I_0$  (Abb. 3.7) eine von der Signalamplitude abhängige Spannungsänderung  $U_{CE,T_9}$  am Transistor  $T_9$ .



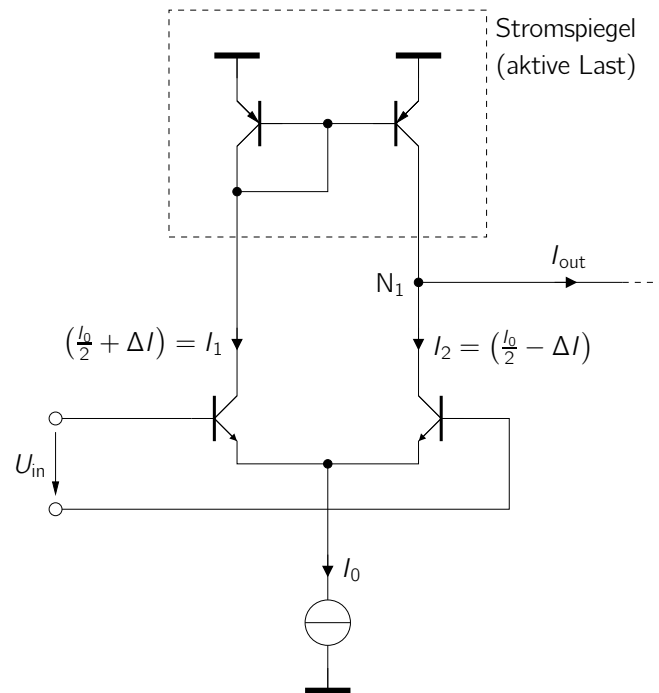


Abbildung 3.7: Differenzverstärker mit einer aktiven Last, durch die der Ausgangsstrom  $\Delta I$  einer Seite verdoppelt wird.

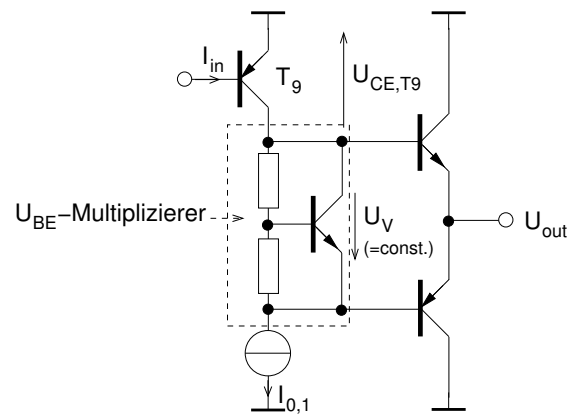


Abbildung 3.8: Endstufe mit Vorspannungserzeugung (vgl. Abb. 3.9 und PNP-Schaltung am Ausgang des Differenzverstärkers zur Wandlung von Strom- in Spannungssignal.

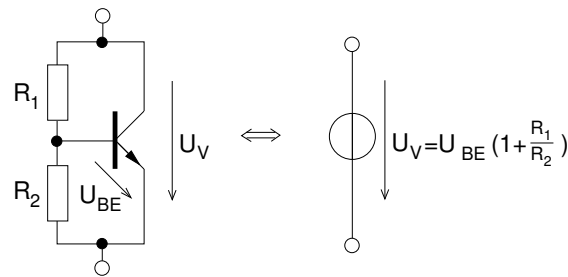


Abbildung 3.9: Vorspannungserzeugung, diese ist äquivalent zu einer Spannungsquelle mit Wert  $U_V$ .

### Vorspannungserzeugung

Transistoren besitzen im Allgemeinen eine nicht-lineare Kennlinie. Betrachtet man davon jedoch nur einen kleinen Ausschnitt (bei Kleinsignal-Ansteuerung), kann dieser als hinreichend linear betrachtet werden (vgl. Vorlesungen „Physikalische Grundlagen der Elektronik“ und „Schaltungstechnik“). Um diesen linearen Arbeitsbereich zu erreichen, ist es notwendig, am Transistor eine (Vor-)Spannung zwischen Basis und Emitter einzustellen. Diese Spannung wird in der vorliegenden Schaltungen durch einen sogenannten  $U_{BE}$ -Multiplizierer (nach Abb. 3.9) erzeugt.

Die  $U_{BE}$ -Multiplizierer-Schaltung stellt zwischen Emitter und Kollektor eine konstante Spannung  $U_V$  ein. Diese beträgt ein, durch das Teilverhältnis der Widerstände  $R_1$ ,  $R_2$  an der Basis, einstellbares Vielfaches der Basis-Emitterspannung des Transistors. Zur Erzeugung von  $U_V = U_{BE}$  wurden in unserer Schaltung  $R_1 \rightarrow 0 \Omega$  und  $R_2 \rightarrow \infty$  gewählt.<sup>3</sup>

Die Vorspannungserzeugung dient dazu, dass keine sogenannten Übernahmeverzerrungen auftreten, welche sich negativ auf den Klirrfaktor des Verstärkers auswirken. Zur Vertiefung wird auf einschlägige Literatur oder auf einen Selbstversuch mit zu kleiner Vorspannung ( $U_V \rightarrow 0$ ) verwiesen.

<sup>3</sup>Für Experten: Unter der Annahme einer konstanten Spannung  $U_{BE}$  kann die Spannung  $U_{CE}$  (welche die Vorspannung für die beiden folgenden Transistoren darstellt) direkt über den Spannungsteiler berechnet werden. Sie beträgt mit  $U_{CE} = U_{BE} \left(1 + \frac{R_1}{R_2}\right)$  wie bereits erwähnt ein Vielfaches der Basis-Emitter-Spannung. Für thermische Stabilität ist es wichtig, den Transistor der Vorspannungserzeugung möglichst identisch zu den angesteuerten Transistoren zu wählen, und diese thermisch zu koppeln.

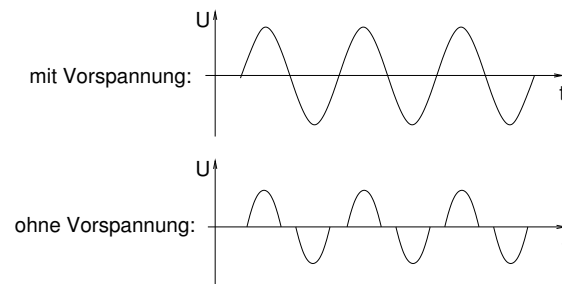


Abbildung 3.10: Ausgangssignal, bei Ansteuerung mit Sinussignal, mit und ohne Vorspannung an der Gegentaktendstufe.

### Gegentaktendstufe

Die Gegentaktendstufe dient dazu, der Schaltung eine niedrige Ausgangsimpedanz zu verleihen, was ermöglicht, dass sie am Ausgang große Ströme durch die niederohmige Last (ca.  $8\ \Omega$ ) bereitstellen kann. Die Differenzstufe selbst wäre nicht in der Lage, die hierzu benötigten Ausgangsströme bereitzustellen.

Kommt von der Differenzstufe kein Signal, so fließt durch die Endstufentransistoren ein geringer (Vor-)Strom (eingestellt durch die Vorspannung) und am Knoten der beiden Emittter stellt sich ein Nullpotenzial ein (genauer gesagt, stellt sich das Nullpotenzial automatisch aufgrund der Rückkopplung durch  $R_{10}$ ,  $R_{11}$  ein, vgl. Vorlesung „Schaltungstechnik“).

Steuert man die Endstufe mit einem Signal um das Nullpotenzial an, so leitet (je nach Polarität der Halbwelle) ein Transistor mehr und der Andere beginnt zu sperren. Der Ausgang folgt dem Eingangssignal, die Signalquelle wird dabei nur kaum belastet. Würde man die Transistoren ohne Vorspannung mit einem sinusförmigen Signal ansteuern, so würde der Bereich um den Nulldurchgang abgeschnitten (vgl. Abb. 3.10). Dies würde starke Verzerrungen im Audiosignal verursachen<sup>4</sup>. Durch die Vorspannung wird sichergestellt, dass auch das Ausgangssignal sinusförmig ist.

<sup>4</sup>Für Experten: Das Abschneiden des Signals verursacht Oberschwingungen, welche bspw. durch Fouriertransformation des Signals gezeigt werden können. Diese Oberschwingungen nennt man Klirren, der Klirrfaktor verschlechtert sich. Zur Vermeidung der Oberschwingungen ist es notwendig, eine lineare Übertragung auch der Nulldurchgänge der Transistoren sicherzustellen. Hierfür muss die BE-Spannung nahe an der Flussspannung der BE-Diode (ca. 800 mV) gehalten werden.

### 3.4 Gesamtschaltung

Die Gesamtschaltung besteht aus den zuvor beschriebenen Einzelteilen. Der gesamte Verstärker ist rückgekoppelt, d. h. ein Teil des Ausgangssignals wird an den Eingang zurückgeführt. Dies ermöglicht, eine feste Verstärkung einzustellen. Ohne Rückkopplung arbeitet der Verstärker mit einer sehr großen, idealerweise unendlich hohen, Verstärkung. Durch diese würde sich aufgrund kleinster Differenzspannungen am Eingang, bspw. durch Bauteilswankungen, am Ausgang das Potenzial einer der Betriebsspannungen einstellen. Desweiteren würde jedes Signal in ein Rechtecksignal umgeformt, was im Audiobetrieb nicht erwünscht ist. Zusätzlich verfügen die Betriebsspannung über mehrere Abblockkapazitäten gegen Masse. Diese gleichen Spannungsschwankungen aus und stellen sicher, dass für hochfrequente Signale die Betriebsspannungen konstant sind.

## 4 Schaltplan, Layout

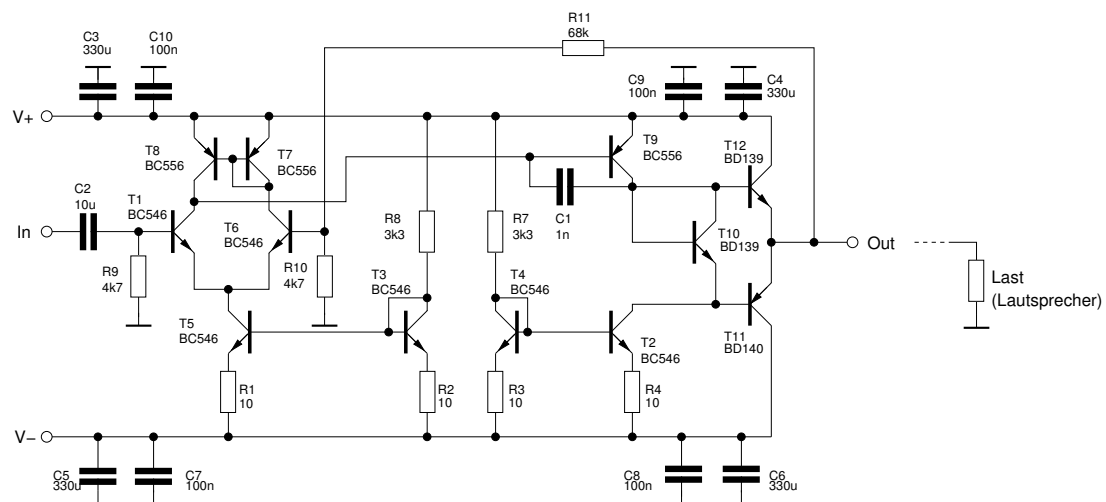


Abbildung 4.1: Der Schaltplan mit Bauteilwerten.

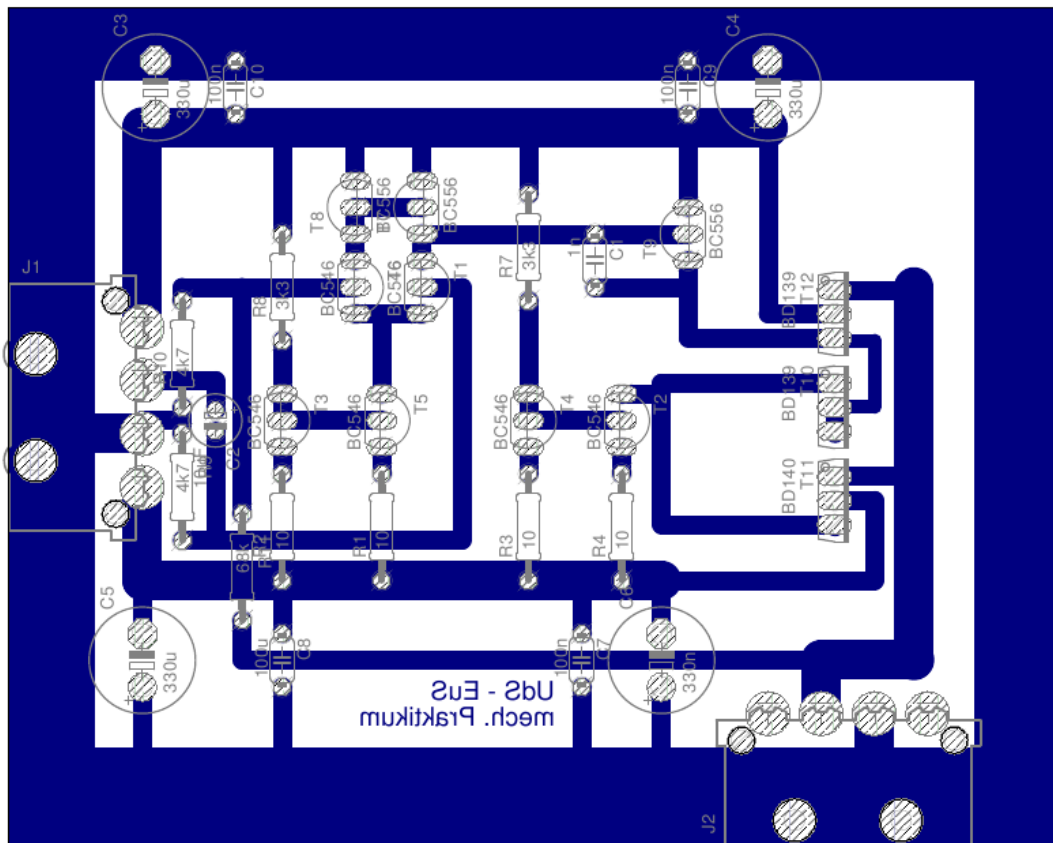


Abbildung 4.2: Das Layout der zu bestückenden Platine.

## 5 Aufgaben

- Machen Sie sich die Funktionsweise der Schaltung, soweit mit Ihrem Vorwissen möglich, klar. Sollten Sie Fragen haben wenden Sie sich an den Versuchsleiter.
- Zeigen Sie mit Hilfe von Abb. 3.7, dass der Ausgangsstrom am Knoten  $N_1$  mit aktiver Last stets verdoppelt wird.
- Bestücken Sie die Platine mit den Bauteilen, die Werte sind im Schaltplan vermerkt. Achten Sie auf korrekte Polarität bei Transistoren und Elektrolytkondensatoren. Die Anschlussbelegung der Transistoren können den ausliegenden Datenblättern entnommen werden.
- Abschließend erfolgt ein Funktionstest mit Ansteuerung eines Lautsprechers, sowie weiteren Erläuterungen durch den Versuchsleiter.
- Im Anschluss an die Versuchsdurchführung erfolgt ein schriftlicher Test zur Erteilung des Abtestats.